

Arbetshäfte

GRUNDKURS I PIANO

Teori

Av: Hannah Sundkvist

NAMN: _____

KLASS _____



Checkbox för Pianokursen

Bocka för uppgifterna som du är klar med efter att du har gjort uppgifterna

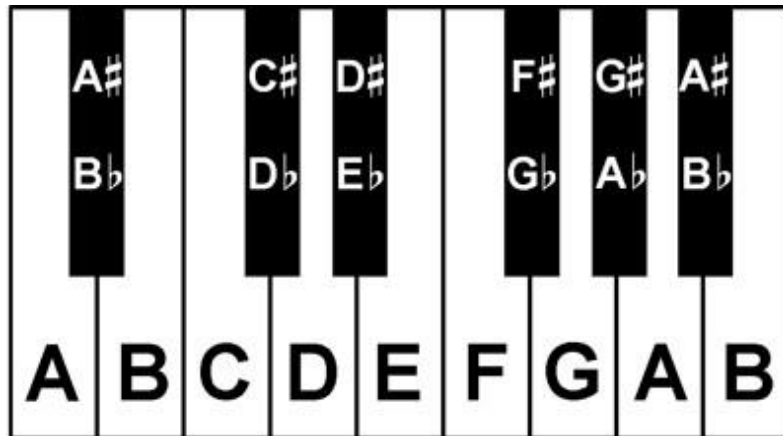
1. Tonernas namn på pianot

- Vet vad de vita tangenterna på pianot heter
- Vet vad de svarta tangenterna på pianot heter

2. Ackord

- Har gjort rebusen
- Har gjort uppgiften om hur man tar ett ackord (dur/moll)
- Har gjort uppgiften om omvända ackord

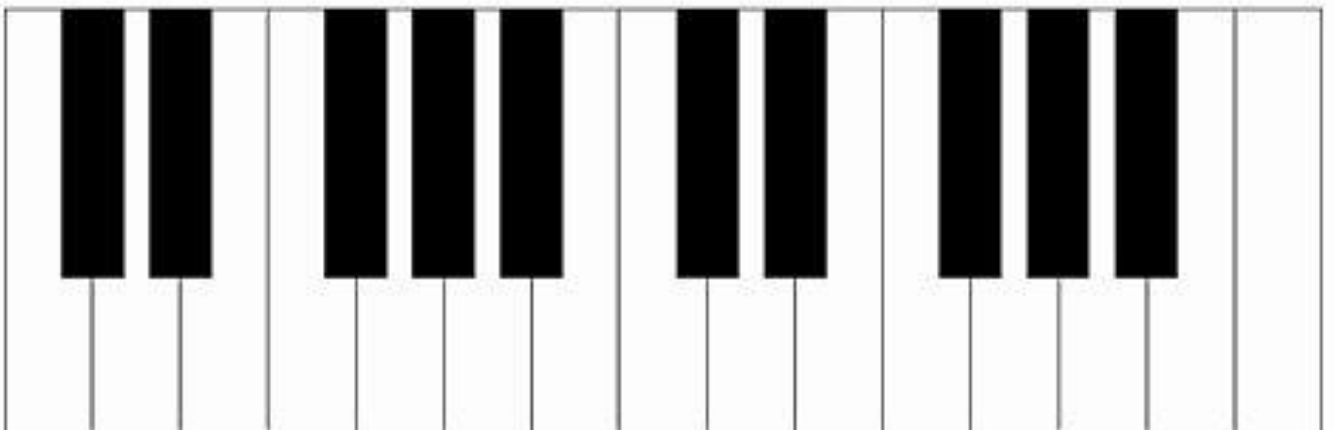
Tonernas namn



Vita tangenter

Uppgift 1:

Fyll i tonernas namn på ALLA de vita tangenterna

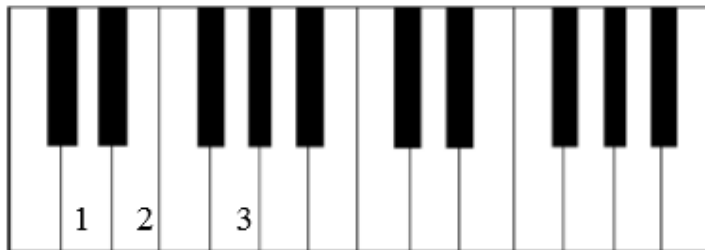


Rebus Vilka ord döljer sig nedan?

Uppgift 2:

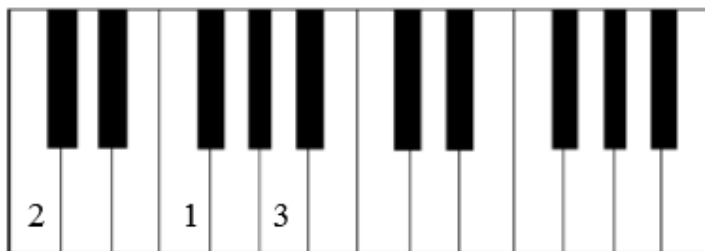
- Gissa ordet genom att fylla i bokstäverna i de rutorna till höger.
- Om det är en tom ruta ska du själv gissa vilken bokstav det kan vara.

Rebus 1.



Svar:
1 2 3

Rebus 2.



Svar:
1 2 3

Rebus 3.



Svar:
1 2 3

Rebus 4.



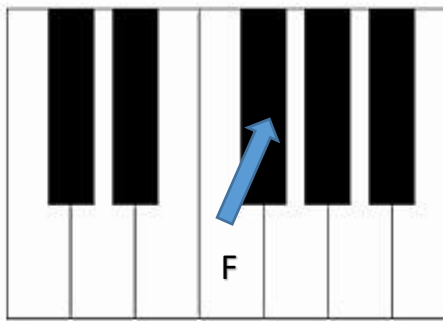
Svar:
1 2 3

Korsförtecken



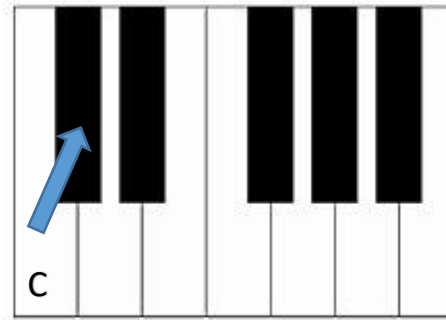
Korsförtecken

Korsförtecken innebär att du höjer en ton med ett halvt tonsteg. **C** blir **C[#]** och kallas då för **Ciss**.



Uppgift 3:

Vad heter den tonen som pilar pekar på?



Uppgift 4:

Vad heter den tonen som pilar pekar på?

Uppgift 5:

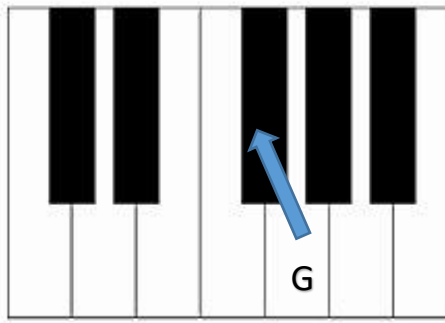
Fyll i ALLA tonernas namn ovanför de svarta tangenterna med #
förtecken



B-förtecken

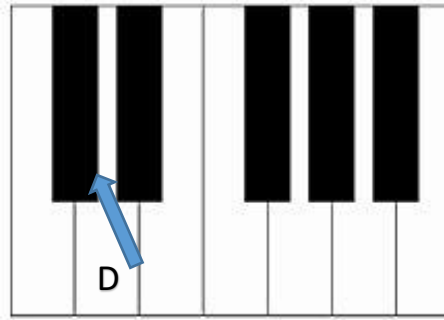
B-förtecken

B-förtecken innebär att du sänker en ton med ett halvt tonsteg. **A** blir **A^b** och kallas då för **Ass**.



Uppgift 6 :

Vad heter den tonen som pilar pekar på?

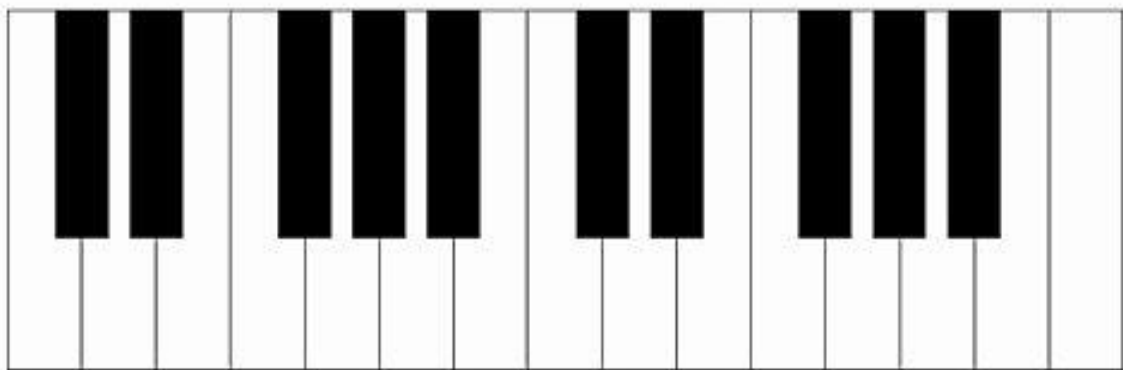


Uppgift 7:

Vad heter den tonen som pilar pekar på?

Uppgift 8:

Fyll i ALLA tonernas namn ovanför de svarta tangenternas med ^b-förtecken



Visa upp dina svar för lärare innan du går vidare

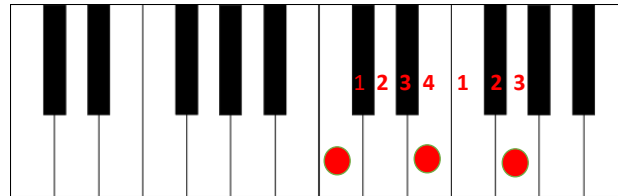


Dur

Durackord låter glada



Räkna: **4+3**



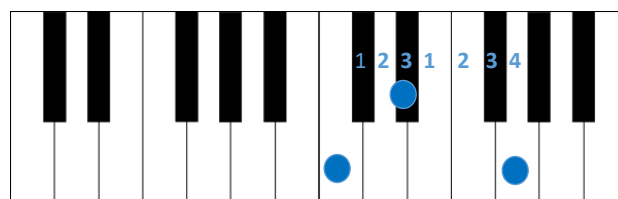
Grundton ters kvint

Moll

Mollackord låter vemodiga



Räkna: **3+4**



Grundton ters kvint

Ackord

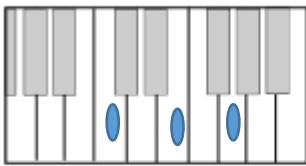
Uppgift 9:

Fyll i vilka tangenter som ingår i ackordet

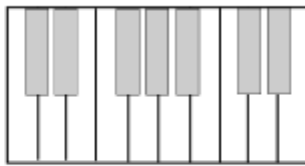
Dur = 4 + 3 😊

Moll = 3+ 4 🤔

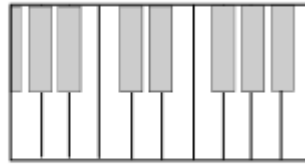
C (dur)



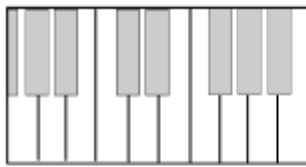
F



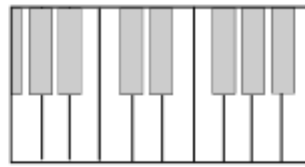
B



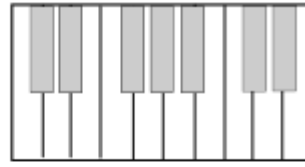
Dm



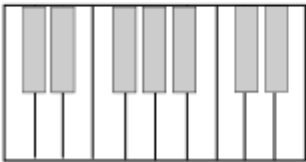
Cm



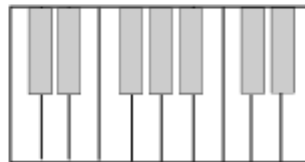
Gm



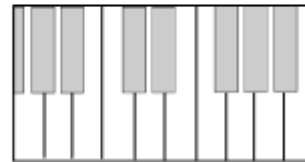
F#m



Ebm



Bb



Tänk på att man kanske tar tonerna i ackorden i annan ordning för att spela så samlat som möjligt.

Lär dig följande namn på tonerna

① Grundton

④ Ters

③ Kvint

Omvända ackord

Uppgift 10: Fyll i ackorden i grundläge (som du gjorde i förra uppgiften)

Uppgift 11: Fyll i samma ackord igen fast omvänt (antingen i kvint- eller tersläge)

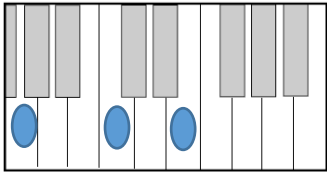
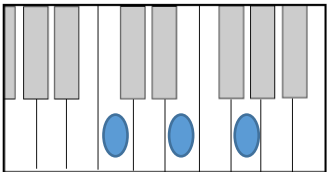
EXEMPEL

GRUNDLÄGE

OMVÄNT LÄGE

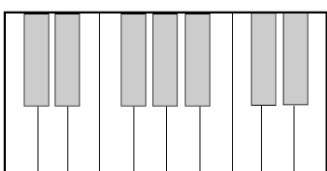
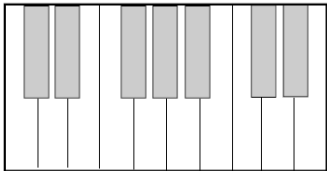
C (dur)

C (dur)



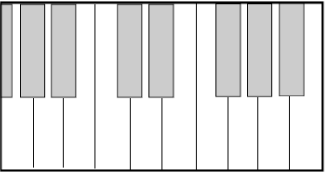
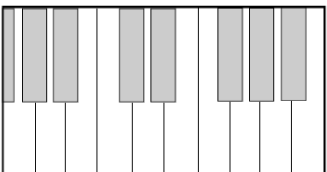
F

F



Dm

Dm



B

B

